




TALLER DE PLAN DE MEJORAMIENTO PERIODO II GEOMETRÍA

Periodo	II	Grupo	1°	Área	MATEMATICAS
Alumno(a)					
Maestro:	ASTRID MARIA HERNANDEZ DE LA CURZ				
Indicadores de Desempeño:	<p>To know: -To Recognize closed polygonal lines and what their elements are.</p> <p>To do: -To Differentiate round geometric solids such as the sphere, cylinder and cone.</p> <p>To be: -To Assume a responsible and proactive attitude towards the processes of the subject of mathematics.</p>				

Actividades	Fecha
<p>1. [REPRESENTACIÓN] Camila dibuja una ventana de 4 lados exactamente iguales. ¿Qué figura geométrica es?</p> <p>A) Círculo B) Cuadrado C) Triángulo D) Rectángulo</p> <p> [Dibuja y colorea un CUADRADO feliz con ojitos aquí dentro]</p>	
<p>2. [RAZONAMIENTO] Un trozo de pizza crujiente tiene 3 esquinas y 3 bordes rectos. ¿Cómo se llama esta forma?</p> <p>A) Rectángulo B) Esfera C) Triángulo D) Cuadrado</p> <p> [Dibuja y colorea un TRIÁNGULO divertido como una pizza aquí]</p>	<p>Entrega del taller: (40%) Junio 1 del 2026</p> <p>Sustentación: (60%) Del 1 al 3 de junio.</p>
<p>3. [COMUNICACIÓN] El sol redondo brilla sin ninguna esquina en el cielo. ¿A qué figura plana corresponde?</p> <p>A) Rectángulo B) Círculo C) Triángulo D) Cuadrado</p> <p> [Dibuja y colorea un CÍRCULO perfecto con rayos brillantes aquí]</p>	
<p>4. [MÉTRICO - ESPACIAL] Tu cuaderno tiene 4 lados: 2 largos y 2 más cortos. ¿Qué figura geométrica</p>	

representa?

- A) Cuadrado
- B) Triángulo
- C) Círculo
- D) Rectángulo

 [Dibuja y colorea un RECTÁNGULO acostado tipo cuaderno aquí]

5. [RESOLUCIÓN DE PROBLEMAS]

Para el techo triangular de una casita de juguete, Mateo necesita una figura de:

- A) 5 lados cortos
- B) 3 lados rectos
- C) Ningún lado
- D) 4 lados iguales

 [Dibuja y colorea la CASITA combinando cuadrado y triángulo aquí]

6. [COMUNICACIÓN 3D]

Una pelota de fútbol rueda por el patio porque tiene volumen completo. Es una:

- A) Esfera
- B) Cono
- C) Cilindro
- D) Línea

 [Dibuja y colorea una ESFERA redonda en 3D como tu balón favorito aquí]

7. [REPRESENTACIÓN 3D]

El gorrito de cumpleaños termina en punta arriba, igual al barquillo de un helado. Es un:

- A) Cilindro
- B) Cono
- C) Cuadrado
- D) Esfera

 [Dibuja y colorea un CONO de helado o gorrito de fiesta aquí]

8. [RAZONAMIENTO 3D]

Una lata de sopa redonda y alargada que puede rodar sobre la mesa es un:

- A) Cilindro
- B) Cubo
- C) Cono
- D) Triángulo

 [Dibuja y colorea un CILINDRO como una lata de refresco aquí]

9. [RESOLUCIÓN DE PROBLEMAS]

Si pones una bola de helado (esfera) sobre un barquillo (cono), ¿qué formas juntas?

- A) Esfera y Cono
- B) Cilindro y Cuadrado
- C) Círculo y Rectángulo
- D) Cubo y Línea

 [Dibuja el HELADO completo uniendo la esfera y el cono aquí]

10. [MÉTRICO - ESPACIAL]

El tambor musical de la escuela es alargado con tapas redondas. ¿Qué cuerpo geométrico es?

- A) Un Cono
- B) Un Cilindro
- C) Una Esfera
- D) Un Cuadrado

 [Dibuja y colorea el TAMBÓR cilíndrico con sus dos baquetas aquí]

Firma Docente	Firma Alumno